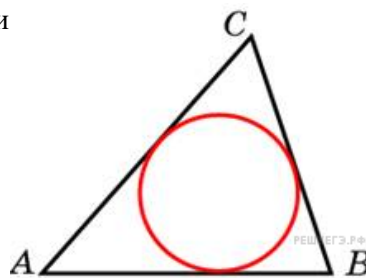


Окружность, вписанная в треугольник

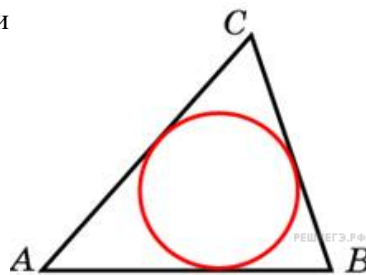
1.

Периметр треугольника равен 12, а радиус вписанной окружности равен 1. Найдите площадь этого треугольника.



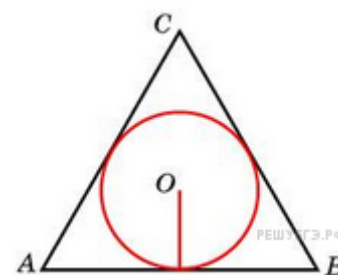
2.

Площадь треугольника равна 24, а радиус вписанной окружности равен 2. Найдите периметр этого треугольника.



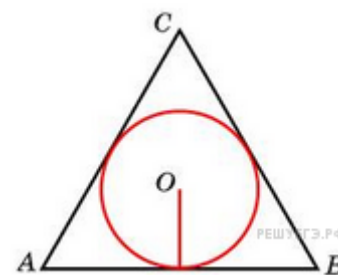
3.

Сторона правильного треугольника равна $\sqrt{3}$. Найдите радиус окружности, вписанной в этот треугольник.



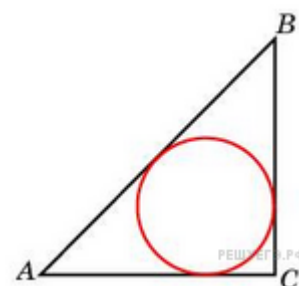
4.

Радиус окружности, вписанной в правильный треугольник, равен $\frac{\sqrt{3}}{6}$. Найдите сторону этого треугольника.



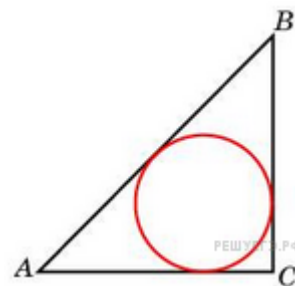
5.

Радиус окружности, вписанной в равнобедренный прямоугольный треугольник, равен 2. Найдите гипотенузу C этого треугольника. В ответе укажите $c(\sqrt{2} - 1)$.



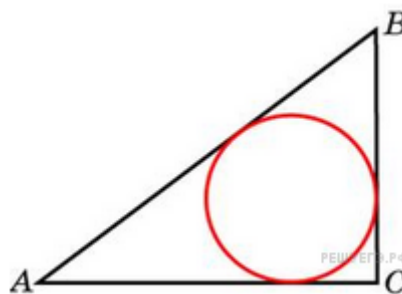
6.

Катеты равнобедренного прямоугольного треугольника равны $2 + \sqrt{2}$.
 Найдите радиус окружности, вписанной в этот треугольник.



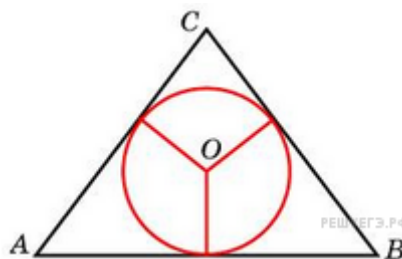
7.

В треугольнике ABC $AC = 4$, $BC = 3$, угол C равен 90° .
 Найдите радиус вписанной окружности.



8.

Боковые стороны равнобедренного треугольника равны 5, основание равно 6. Найдите радиус вписанной окружности.



9.

Найдите радиус окружности, вписанной в треугольник ABC , считая стороны квадратных клеток равными 1.

