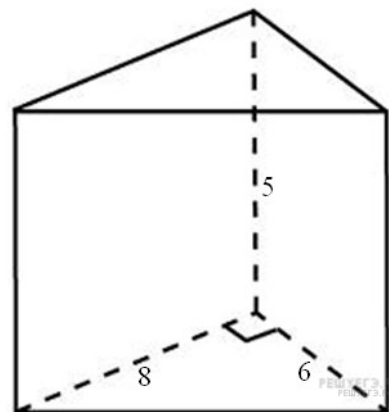


Призма

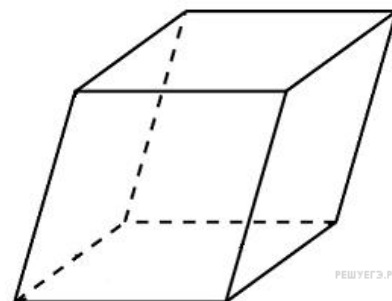
1.

Основанием прямой треугольной призмы служит прямоугольный треугольник с катетами 6 и 8, боковое ребро равно 5. Найдите объем призмы.



2.

Гранью параллелепипеда является ромб со стороной 1 и острым углом 60° . Одно из ребер параллелепипеда составляет с этой гранью угол в 60° и равно 2. Найдите объем параллелепипеда.



3.

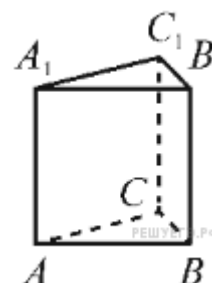
В правильной треугольной призме $ABCA_1B_1C_1$ стороны оснований равны 2, боковые ребра равны 5. Найдите площадь сечения призмы плоскостью, проходящей через середины ребер AB , AC , A_1B_1 и A_1C_1 .

4.

В правильной четырехугольной призме $ABCD A_1 B_1 C_1 D_1$ ребро AA_1 равно 15, а диагональ BD_1 равна 17. Найдите площадь сечения призмы плоскостью, проходящей через точки A , A_1 и C .

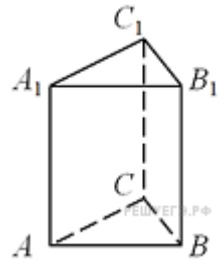
5.

Найдите объем многогранника, вершинами которого являются точки B, A_1, B_1, C_1 правильной треугольной призмы $ABCA_1B_1C_1$, площадь основания которой равна 9, а боковое ребро равно 8.



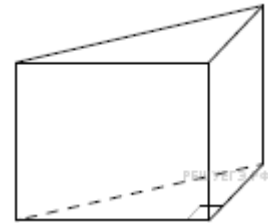
6.

Найдите объем многогранника, вершинами которого являются точки A, A_1, B_1, C правильной треугольной призмы $ABCA_1B_1C_1$, площадь основания которой равна 3, а боковое ребро равно 2.



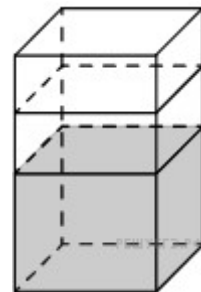
7.

В основании прямой призмы лежит прямоугольный треугольник, один из катетов которого равен 2, а гипотенуза равна $\sqrt{53}$. Найдите объём призмы, если её высота равна 3.



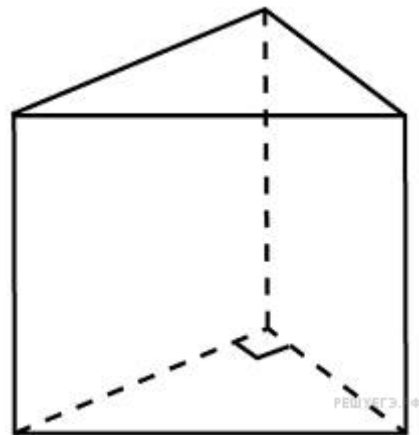
8.

В бак, имеющий форму прямой призмы, налито 5 л воды. После полного погружения в воду детали уровень воды в баке поднялся в 1,4 раза. Найдите объём детали. Ответ дайте в кубических сантиметрах, зная, что в одном литре 1000 кубических сантиметров.



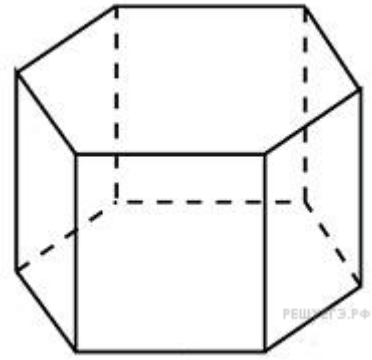
9.

Основанием прямой треугольной призмы служит прямоугольный треугольник с катетами 3 и 5. Объём призмы равен 30. Найдите её боковое ребро.



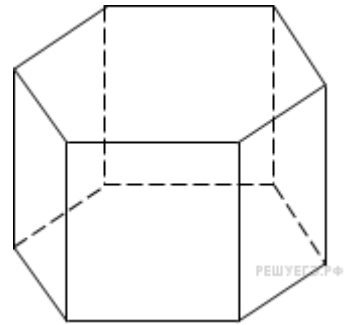
10.

Найдите объём правильной шестиугольной призмы, стороны основания которой равны 1, а боковые ребра равны $\sqrt{3}$.



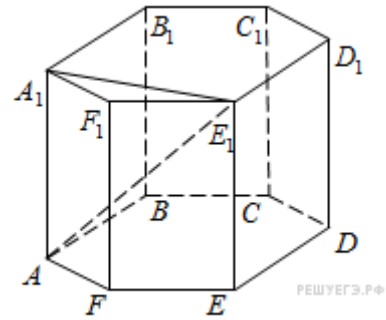
11.

Найдите объем правильной шестиугольной призмы, все ребра которой равны $\sqrt{3}$.



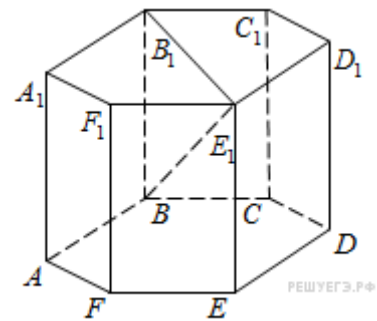
12.

В правильной шестиугольной призме $ABCDEF A_1 B_1 C_1 D_1 E_1 F_1$ все ребра равны 1. Найдите расстояние между точками A и E_1 .



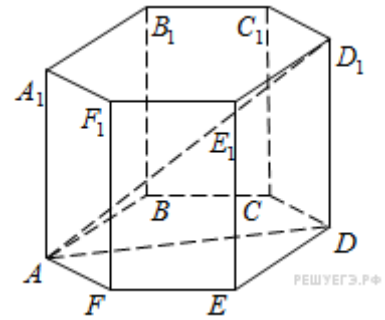
13.

В правильной шестиугольной призме $ABCDEF A_1 B_1 C_1 D_1 E_1 F_1$ все ребра равны $\sqrt{5}$. Найдите расстояние между точками B и E_1 .



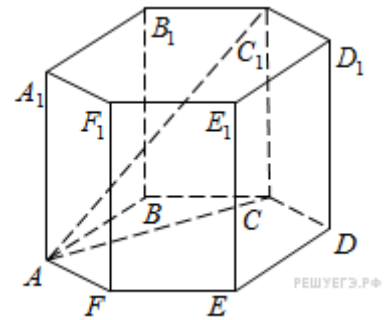
14.

В правильной шестиугольной призме $ABCDEF A_1 B_1 C_1 D_1 E_1 F_1$ все ребра равны 1. Найдите тангенс угла $AD_1 D$.



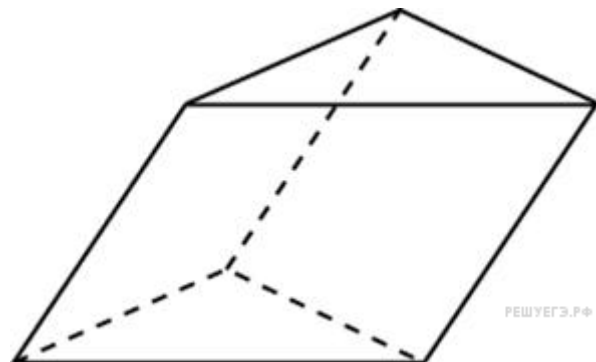
15.

В правильной шестиугольной призме $ABCDEF A_1 B_1 C_1 D_1 E_1 F_1$ все ребра равны 1. Найдите угол $AC_1 C$. Ответ дайте в градусах.



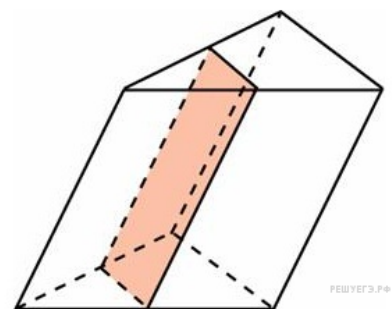
16.

В треугольной призме две боковые грани перпендикулярны. Их общее ребро равно 10 и отстоит от других боковых ребер на 6 и 8. Найдите площадь боковой поверхности этой призмы.



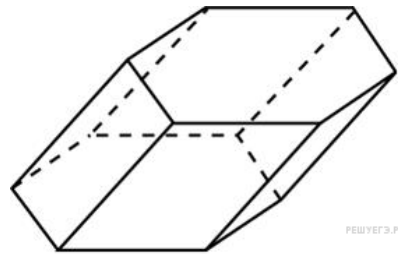
17.

Через среднюю линию основания треугольной призмы, площадь боковой поверхности которой равна 24, проведена плоскость, параллельная боковому ребру. Найдите площадь боковой поверхности отсеченной треугольной призмы.



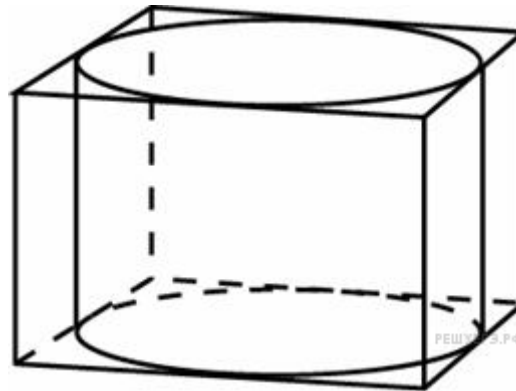
18.

Найдите объем призмы, в основаниях которой лежат правильные шестиугольники со сторонами 2, а боковые ребра равны $2\sqrt{3}$ и наклонены к плоскости основания под углом 30° .



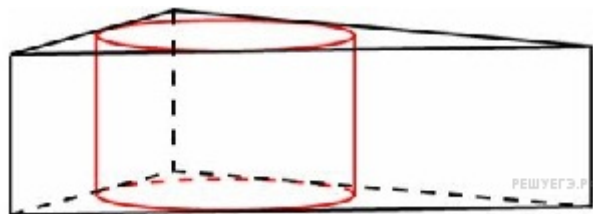
19.

Правильная четырехугольная призма описана около цилиндра, радиус основания и высота которого равны 1. Найдите площадь боковой поверхности призмы.



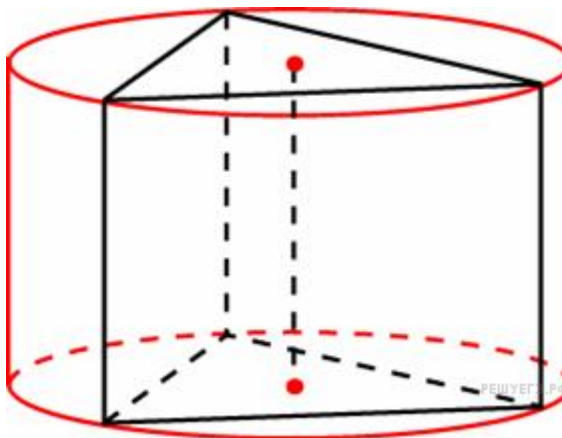
20.

Найдите площадь боковой поверхности правильной треугольной призмы, описанной около цилиндра, радиус основания которого равен $\sqrt{3}$, а высота равна 2.



21.

Найдите площадь боковой поверхности правильной треугольной призмы, вписанной в цилиндр, радиус основания которого равен $2\sqrt{3}$, а высота равна 2.



22.

Найдите площадь боковой поверхности правильной шестиугольной призмы, описанной около цилиндра, радиус основания которого равен $\sqrt{3}$, а высота равна 2.

