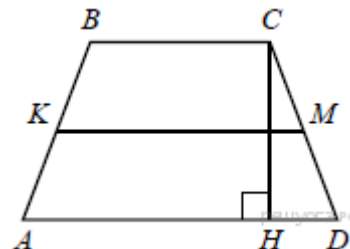
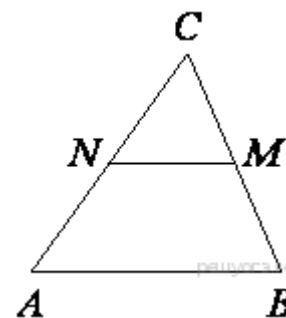


Четырёхугольники

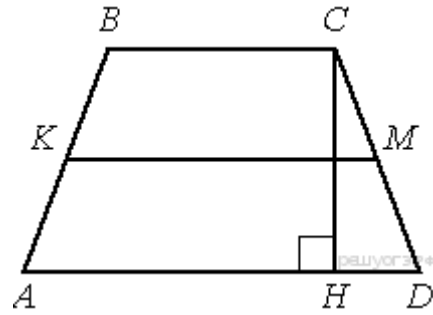
1. Основания равнобедренной трапеции равны 8 и 18, а периметр равен 56. Найдите площадь трапеции.
2. В параллелограмм вписана окружность. Найдите периметр параллелограмма, если одна из его сторон равна 8.
3. Высота AH ромба $ABCD$ делит сторону CD на отрезки $DH = 12$ и $CH = 3$. Найдите высоту ромба.
4. Высота AH ромба $ABCD$ делит сторону CD на отрезки $DH = 12$ и $CH = 1$. Найдите высоту ромба.
5. Периметр прямоугольника равен 56, а диагональ равна 27. Найдите площадь этого прямоугольника.
6. Прямая, параллельная основаниям MP и NK трапеции $MNKP$, проходит через точку пересечения диагоналей трапеции и пересекает её боковые стороны MN и KP в точках A и B соответственно. Найдите длину отрезка AB , если $MP = 40$ см, $NK = 24$ см.
7. Диагонали AC и BD трапеции $ABCD$ пересекаются в точке O . Площади треугольников AOD и BOC равны соответственно 16 см^2 и 9 см^2 . Найдите площадь трапеции.
8. В трапеции $ABCD$ основание AD вдвое больше основания BC и вдвое больше боковой стороны CD . Угол ADC равен 60° , сторона AB равна 2. Найдите площадь трапеции.
9. В выпуклом четырёхугольнике $ABCD$ длина отрезка, соединяющего середины сторон AB и CD , равна одному метру. Прямые BC и AD перпендикулярны. Найдите длину отрезка, соединяющего середины диагоналей AC и BD .
10. Каждое основание AD и BC трапеции $ABCD$ продолжено в обе стороны. Биссектрисы внешних углов A и B этой трапеции пересекаются в точке K , биссектрисы внешних углов C и D пересекаются в точке E . Найдите периметр трапеции $ABCD$, если длина отрезка KE равна 28.
11. Найдите площадь выпуклого четырёхугольника с диагоналями 8 и 5, если отрезки, соединяющие середины его противоположных сторон, равны.
12. В трапеции $ABCD$ боковые стороны AB и CD равны, CH — высота, проведённая к большему основанию AD . Найдите длину отрезка HD , если средняя линия KM трапеции равна 16, а меньшее основание BC равно 4.



13. В треугольнике ABC отмечены середины M и N сторон BC и AC соответственно. Площадь треугольника CNM равна 57. Найдите площадь четырёхугольника $ABMN$.



14. В трапеции $ABCD$ боковые стороны AB и CD равны, CH — высота, проведённая к большему основанию AD . Найдите длину отрезка HD , если средняя линия KM трапеции равна 16, а меньшее основание BC равно 4.



15. Основания трапеции равны 16 и 34. Найдите отрезок, соединяющий середины диагоналей трапеции.

16. Биссектриса угла A параллелограмма $ABCD$ пересекает его сторону BC в точке E . Найдите площадь параллелограмма $ABCD$, если $BE = 7$, $EC = 3$, а $\angle ABC = 150^\circ$.

17. Биссектрисы углов A и B при боковой стороне AB трапеции $ABCD$ пересекаются в точке F . Найдите AB , если $AF = 24$, $BF = 10$.

18. Биссектрисы углов A и D параллелограмма $ABCD$ пересекаются в точке, лежащей на стороне BC . Найдите AB , если $BC = 34$.

19. Биссектрисы углов A и B параллелограмма $ABCD$ пересекаются в точке K . Найдите площадь параллелограмма, если $BC = 19$, а расстояние от точки K до стороны AB равно 7.

20. Найдите боковую сторону AB трапеции $ABCD$, если углы ABC и BCD равны соответственно 30° и 120° , а $CD = 25$.

21. Найдите площадь трапеции, диагонали которой равны 15 и 7, а средняя линия равна 10.

22. Найдите боковую сторону AB трапеции $ABCD$, если углы ABC и BCD равны соответственно 60° и 150° , а $CD = 33$.

23. Биссектрисы углов A и B при боковой стороне AB трапеции $ABCD$ пересекаются в точке F . Найдите AB , если $AF = 20$, $BF = 15$.

24. Найдите площадь трапеции, диагонали которой равны 16 и 12, а средняя линия равна 10.

25. Биссектрисы углов A и B параллелограмма $ABCD$ пересекаются в точке K . Найдите площадь параллелограмма, если $BC = 5$, а расстояние от точки K до стороны AB равно 10.